



# МИР ЖИВОТНЫХ, 1 КЛАСС

СЕРТИФИКАЦИЯ УЧАЩИХСЯ

предметные олимпиады 2015-2016 учебного года, естественнонаучный цикл

ФАМИЛИЯ

КЛАСС  -

ИМЯ

Отметьте верный вариант ответа. Время выполнения работы - 90 минут.

## Часть I. За каждое верно выполненное задание начисляется 3 балла

1. Определи по описанию, о ком идёт речь:

«Тело состоит из головы, груди и брюшка, на голове имеется пара сложных глаз и пара усиков. На груди – три пары ног и, как правило, есть крылья».




1  Паукообразные

2  Насекомые

3  Птицы

2. Определи последовательность развития рыб:



1  В – D – A – C

2  C – D – A – B

3  C – A – D – B

3. Определи, какие птицы, зимующие в городе, питаются только семенами растений и зерновыми культурами?

1




2



3



4. Определи, какие животные являются домашними:



1  A, B, D, E, F

2  B, D, F, G, H

3  C, E, F, G, H

5. Разгадай ребус и найди изображение этого животного:

1



2









3



## МИР ЖИВОТНЫХ, 1 КЛАСС

предметные олимпиады 2015-2016 учебного года, естественнонаучный цикл

6. Определи, какие виды относятся к морским (А), а какие к речным рыбам (В):







1.	2.	3.	4.	5.	6.
					
карп	треска	окунь	щука	скумбрия	ёрш

1  А – 1, 2, 5; В – 3, 4, 6

2  А – 3, 4, 6; В – 1, 2, 5

3  А - 2, 5; В - 1, 3, 4, 6

7. Определи последовательность событий жизни перелётных птиц:

A.	B.	C.	D.	E.	F.
					

1  C, A, D, F, E, B

2  F, C, A, E, D, B

3  F, A, E, C, D, B

8. Определи по описанию, о ком говорится в тексте: «Эти животные покрыты шерстью. Они выкармливают детёнышей молоком».










1  Пресмыкающиеся

2  Насекомые

3  Млекопитающие

9. Найди насекомых:

A.	B.	C.	D.	E.	F.	G.
						

1  A, B, C, F

2  C, D, E, G

3  A, C, F, G

10. Определи, какая из этих пресноводных рыб является хищником?



1  Окунь



2  Толстолобик



3  Белый амур

## МИР ЖИВОТНЫХ, 1 КЛАСС

предметные олимпиады 2015-2016 учебного года, естественнонаучный цикл  
Часть II. За каждое верно выполненное задание начисляется 5 баллов

11. Распредели всех птиц по группам:

А. Дикие птицы	1.	2.	3.	4.	5.	6.	7.	8.
В. Домашние птицы								
С. Декоративные птицы								

1  А-2, 4, 7, 8; В-1, 5, 6; С-3    2  А-2, 4, 7; В-1, 5, 6; С-3, 8    3  А-2, 7; В-1, 5, 6, 8; С-3, 4

12. Распредели этих животных на две группы:

А. Впадают зимой в спячку	1.	2.	3.	4.	5.	6.	7.
В. Бодрствуют зимой							

1  А-1, 3, 6, 7; В-2, 4, 5    2  А-1, 4, 5, 7; В-2, 3, 6    3  А-3, 7; В-1, 2, 4, 5, 6

13. Разгадай кроссворд и определи ключевое слово на цветном фоне:

1.	2.	3.	4.

1				
	2			
	3			
4				

1



2



3



14. Определи, какие слова нужно вставить вместо чисел в текст «Рыбы»:

«1 животные, тело покрыто 2 . Передвигаться им помогают 3 .  
С помощью 4 рыбы дышат 5 , растворённом в воде».

- |               |             |
|---------------|-------------|
| А. Кислородом | Е. Лёгких   |
| В. Чешуёй     | Ф. Панцирем |
| С. Наземные   | Г. Водные   |
| Д. Плавники   | Н. Жабр     |



1  А-5, В-2, С-1, D-3, E-4,

2  А-5, В-2, D-3, G-1, H-4

3  А-5, E-4, F-2, G-1, H-3



## МИР ЖИВОТНЫХ, 1 КЛАСС

предметные олимпиады 2015-2016 учебного года, естественнонаучный цикл

15. Определи, какие из этих птиц занесены в Красную книгу России:

A.	B.	C.	D.	E.	F.	G.	H.
краснозобая казарка	синица	мандаринка	голубь	ворона	иволга	стерх	дрофа

1  A, B, F, G

2  C, D, E, H

3  A, C, G, H

Часть III. За каждое верно выполненное задание начисляется 9 баллов

16. Соотнеси названия зверей с типом их питания:

1.	2.	3.	4.	5.	6.	7.	8.

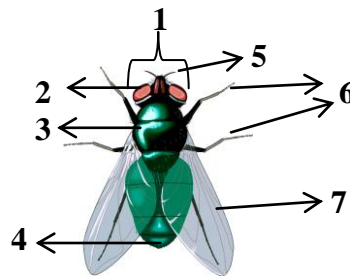
A.	Растительоядные
B.	Насекомоядные
C.	Хищники
D.	Всеядные

1  A-1, 7; B-4; C-2, 5, 6, 8; D-3

2  A-3, 7; B-4, 5; C-2, 6; D-1, 8

3  A-3, 4; B-5; C-2, 6, 8; D-1, 7

17. Определи по картинке части тела этого насекомого:



A.	Глаза
B.	Живот
C.	Голова
D.	Крылья
E.	Брюшко
F.	Усики
G.	Грудь
H.	Хоботок
I.	Ноги

1  A-2, C-1, D-7, E-4, F-5, G-3, I-6

2  A-1, B-4, C-2, D-7, F-5, G-3, I-6

3  A-2, C-1, D-7, E-3, G-4, H-5, I-6

18. Разгадай ребус:



1  Окунь



2  Сельдь



3  Карась





## МИР ЖИВОТНЫХ, 1 КЛАСС

СЕРТИФИКАЦИЯ УЧАЩИХСЯ

предметные олимпиады 2015-2016 учебного года, естественнонаучный цикл

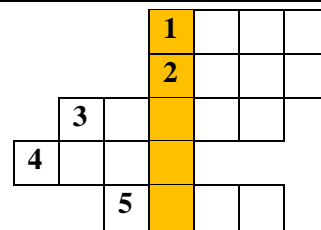
19. Распредели всех птиц на две группы - перелётные (А) и зимующие (В):

1.	2.	3.	4.	5.	6.	7.	8.	9.
ласточка	клёст	лебедь	скворец	снегирь	глухарь	иволга	соловей	воробей

1  А-1, 3, 4, 7, 8; В-2, 5, 6, 9    2  А-3, 4, 7, 8; В-1, 2, 5, 6, 9    3  А-1, 2, 4, 6, 8; В-3, 5, 7, 9

20. Разгадай кроссворд и определи, что обозначает ключевое слово:

1.	2.	3.	4.	5.



1  Паукообразные    2  Млекопитающие    3  Пресмыкающиеся